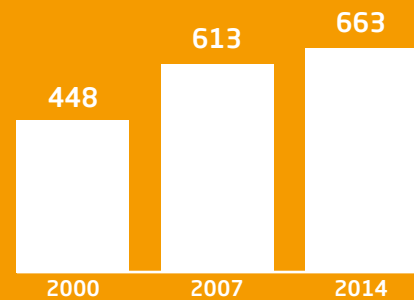


Wat doen bedrijven met hun groeiende winsten?

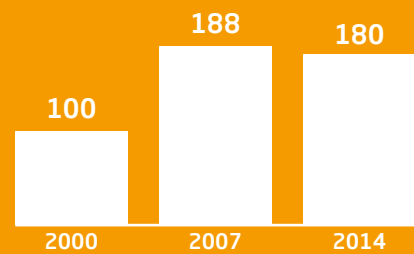
Hoe verdelen werknemers en bedrijven de koek?

We verdienen steeds meer ...



1.1 Nationaal inkomen in miljard euro

... en bedrijven maken bijna twee keer zoveel winst ...



1.2 Brutowinst van bedrijven in miljard euro


... maar werknemers krijgen relatief steeds minder.



1.3 Percentage van de productieopbrengst dat bedrijven uitbetalen als loon

Wat doen bedrijven met hun winsten?

Bedrijven houden meer geld over ...



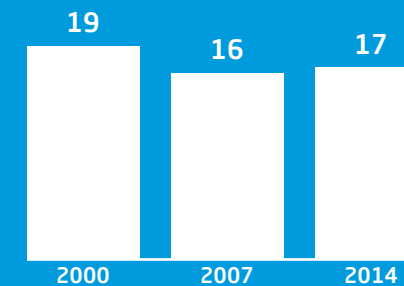
3.1 Nettowinst en brutowinst als indexcijfer (index 2000 = 100)

... ze sparen steeds meer ...



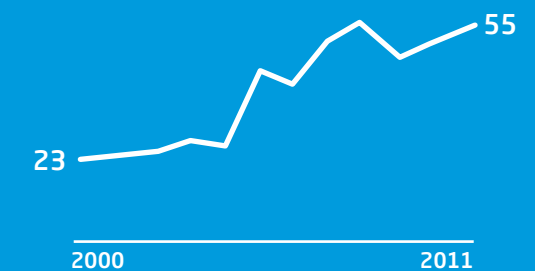
3.2 Bedrag dat bedrijven sparen als percentage van het nationaal inkomen

... investeren minder ...



3.3 Percentage van de productieopbrengst dat wordt geïnvesteerd

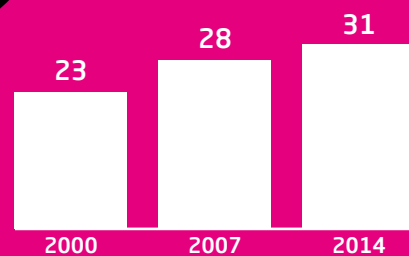
... en keren meer winst uit aan hun aandeelhouders.



3.4 Winstuitkeringen in miljard euro

Hoeveel belasting betalen werknemers en bedrijven?

Werkenden betalen steeds meer belasting ...



2.1 Aandeel van de loon- en inkomstenbelasting in de totale belastinginkomsten van het Rijk

... bedrijven steeds minder.



2.2 Aandeel van de vennootschapsbelasting in de totale belastinginkomsten van het Rijk

Deze Feitenkaart over bedrijfswinsten geeft aan de hand van drie vragen inzicht in hoe het staat met bedrijfswinsten in Nederland. Financiële instellingen zijn hierin niet meegenomen, met uitzondering van grafiek 1.3. De cijfers zijn afkomstig van CBS en CPB. Deze kaart is gemaakt door De Argumentenfabriek, in samenwerking met FNV.